

Задания
теоретического тура муниципального этапа всероссийской олимпиады
по ОБЖ
младшая возрастная группа (7-8 классы)

Уважаемый участник олимпиады!

Вам предстоит выполнить теоретические и тестовые задания.

Выполнение теоретических заданий целесообразно организовать следующим образом:

- не спеша, внимательно прочитайте задание и определите, наиболее верный и полный ответ;
- отвечая на теоретический вопрос, обдумайте и сформулируйте конкретный ответ только на поставленный вопрос;
- если вы отвечаете на задание, связанное с заполнением таблицы или схемы, не старайтесь детализировать информацию, вписывайте только те сведения или данные, которые указаны в вопросе;
- особое внимание обратите на задания, в выполнении которых требуется выразить ваше мнение с учетом поставленной проблемы. Отвечая на вопрос, предлагайте свой вариант решения проблемы, при этом ответ должен быть кратким, но содержать необходимую информацию;
- после выполнения всех предложенных заданий еще раз удостоверьтесь в правильности выбранных вами ответов и решений.





Задание 1. Вы обнаружили, входя в свою квартиру резкий запах бытового газа. **Что необходимо сделать, чтобы предотвратить взрыв в квартире?**

1. _____

2. _____

3. _____

Задание 2. Впишите в правых окошках названия (значения) изображенных знаков дорожного движения.

Задание 3. По определениям опасных природных явлений, данных в левой колонке таблицы, в правой колонке, впишите вид опасного природного явления.

Определение опасного природного явления	Вид опасного природного явления
Смещение масс горных пород по склону под воздействием собственного веса и дополнительной нагрузки вследствие подмыва склона, переувлажнения, сейсмических толчков и иных процессов.	
Затопление водой местности, прилегающей к реке, озеру или водохранилищу, которое наносит урон здоровью людей или даже приводит к их гибели, а также причиняет материальный ущерб.	
Горный поток, состоящий из смеси воды и рыхлообломочной горной породы (грязи, камней).	
Ветер разрушительной силы и значительной продолжительности, скорость которого превышает 32 м/с.	
Покрытие окружающей местности слоем воды, заливающим дворы, улицы населенных пунктов и	

нижние этажи зданий	
Прибрежные тектонические и вулканические землетрясения, сопровождающиеся сдвигом вверх и вниз протяженных участков морского дна.	
Сильный маломасштабный атмосферный вихрь, в котором воздух вращается со скоростью до 100 м/с, обладающий большой разрушительной силой.	
Наводнения, вызванные весенним таянием снега на равнинах или таянием снега и ледников в горах	
Отрыв и катастрофическое падение больших масс горных пород, их опрокидывание, дробление и скатывание на крутых и обрывистых склонах.	
Наводнения, вызванные большим сопротивлением водному потоку, возникающим при скоплении ледового материала в сужениях или излучинах реки во время ледостава	

Задание 4. Назовите не менее 10 источников возможного пожара и травм для ребенка в квартире

№	Источники пожара и травм
1	
2	
3	
4	
5	
6	
7	
8	
9	
10	

Задание 5. Что делать если на Вас напали и хотят ограбить?

Тестовые задания

№ п/п	Тестовые задания	Максимальный балл	Кол-во набранных баллов
Отметьте один правильный ответ			
1.	Костер нельзя разводить: а) на берегу реки б) в хвойных молодняках в) на опушке леса г) на поляне	1	
2.	Полярная Звезда находится в созвездии: а) Малая Медведица б) Большая Медведица в) Альфа Центавра	1	
3.	На улице населенного пункта, к упавшему на землю в сырую погоду электрическому проводу нельзя подходить ближе, чем: а) на 1 метр б) на 5 метров в) на 10 метров г) на 15 метров	1	

4	<p>При обнаружении запаха газа в квартире необходимо:</p> <p>а) оповестить о случившемся соседей; осторожно пройти на кухню; включить свет и убедиться в утечке газа; вызвать аварийную службу</p> <p>б) немедленно прекратить пользование газовыми приборами; перекрыть краны к приборам и на приборах; открыть окна или форточки для проветривания помещения; вызвать аварийную службу</p> <p>в) проверить с использованием источника воспламенения (зажигалки, спички) откуда происходит утечка газа; перекрыть краны к приборам и на приборах; вызвать аварийную службу</p>	1	
5.	<p>В частных домах с печным отоплением нельзя закрывать печную заслонку раньше, чем прогорит все топливо потому что:</p> <p>а) закрывать ее можно и нужно, чтобы не уходило тепло</p> <p>б) недогоревшее топливо задымит весь дом</p> <p>в) в дом станет поступать угарный газ</p>	1	
6.	<p>Пенным огнетушителем запрещено тушить:</p> <p>а) электропроводку</p> <p>б) лаки и краски</p> <p>в) бензин, дизельное топливо</p>	1	
7.	<p>Определите, какие из перечисленных зон являются зонами повышенного высокого</p>	1	

	<p>травматизма:</p> <p>а) улицы и дороги, строительные площадки, уличное электричество</p> <p>б) парки, скверы, зоны отдыха</p> <p>в) музей, оздоровительные центры</p>		
8.	<p>Задача замыкающего во время движения туристской группы по маршруту:</p> <p>а) контролировать те негативные ситуации, которые могут повлиять на движение группы (возможность камнепада, поваленные деревья, коряги, лесной пожар и т.п.)</p> <p>б) следить, чтобы группа не растягивалась, и никто не отстал</p> <p>в) запоминать маршрут и отмечать на карте пройденные ориентиры</p>	1	
9.	<p>Зеленый мигающий сигнал светофора:</p> <p>а) ограничивает движение и предупреждает об опасности</p> <p>б) разрешает движение и информирует, что время его действия истекает и вскоре будет включен запрещающий сигнал</p> <p>в) запрещает движение и информирует, что сейчас будет включен запрещающий сигнал</p>	1	
10.	<p>В каких местах пешеходу запрещается переходить дорогу:</p> <p>а) на крутых поворотах</p> <p>б) в местах, где дорога идет на подъем</p> <p>в) около туннелей и мостов</p> <p>г) во всех перечисленных местах</p>	1	

11.	<p>Почему знания о биологических ритмах организма человека необходимы для правильного ведения здорового образа жизни?</p> <p>а) потому что позволяют более рационально спланировать периоды труда и отдыха</p> <p>б) потому что дают возможность рационально, полноценно питаться</p> <p>в) потому что позволяют высыпаться и не опаздывать на занятия</p>	1	
12.	<p>Лудомания – это расстройство, заключающееся в частых повторных эпизодах участия в азартных играх, в том числе видеоиграх, доминирующих в жизни.</p> <p>Из приведенных вариантов ответов, выберите тот, в котором наиболее полно перечислены негативные проявления лудомании для здоровья человека?</p> <p>а) приводит к увеличению веса, резкому снижению работоспособности, при этом быстро возникают грубые психические отклонения;</p> <p>б) оказывает разрушительное воздействие на физическое, психическое, эмоциональное и социальное здоровье, приводит к снижению социальных, материальных и семейных ценностей;</p> <p>в) появляется неряшливость, безразличие ко всему, прогрессирует снижение интеллекта, мыслительные процессы и речь становятся замедленными, сообразительность</p>	1	

	резко снижается.		
13.	<p>К каким негативным последствиям для здоровья человека может привести постоянная работа за персональным компьютером:</p> <p>а) снижение иммунитета, ухудшение зрения</p> <p>б) заболевания сосудов и сердца, глаз</p> <p>в) ухудшение слуха, аппетита, сна</p>	1	
Отметьте все правильные ответы			
14.	<p>В местах, где движение регулируется, пешеходы должны руководствоваться:</p> <p>а) сигналами регулировщика</p> <p>б) сигналами пешеходного светофора</p> <p>в) при отсутствии пешеходного светофора сигналами транспортного светофора</p> <p>г) только сигналами транспортного светофора</p>	3	
15.	<p>Каковы признаки отравления ядовитыми растениями, ягодами, грибами?</p> <p>а) бледность, одышка</p> <p>б) боль в животе</p> <p>в) частый жидкий стул</p> <p>г) потливость, стеснение в груди</p> <p>д) тошнота, рвота</p>	3	
16.	<p>Определить стороны горизонта на местности можно по:</p> <p>а) направлению ветра и направлению течения реки</p>	2	

	<p>б) собственной тени и местным предметам</p> <p>в) направлению хоженных и нехоженных троп</p> <p>г) направлению движения поездов</p> <p>д) компасу, звездам, часам</p>		
17.	<p>Горизонтальная разметка (линии, стрелы, надписи и другие обозначения на проезжей части) устанавливает:</p> <p>а) определенные режимы движения</p> <p>б) порядок движения</p> <p>в) габариты дорожных сооружений</p> <p>г) габариты элементов оборудования дорог</p>	3	
18.	<p>Какую роль в организме выполняют витамины?</p> <p>а) замедляют обмен веществ и энергии между организмом человека и окружающей средой</p> <p>б) ускоряют и регулируют обмен веществ и энергии между организмом и окружающей средой</p> <p>в) участвуют в образовании различных активных веществ</p> <p>г) обезвреживают ядовитые вещества</p> <p>д) предохраняют организм от переохлаждения и перегревания</p>	2	
19.	<p>К пищевым добавкам, используемым при производстве продуктов питания относятся:</p> <p>а) бензоат натрия, тартразин;</p>	2	

	<p>б) соль, перец, корица, мед, гвоздика, мускатный орех;</p> <p>в) diazometan, бифталат калия;</p> <p>г) фурфурол, пировиноградная кислота</p>		
20.	<p>Для укрепления, сохранения зубов необходимо включать ежедневно в рацион питания следующие продукты:</p> <p>а) печень говяжья, пшено, горох, крупа перловая</p> <p>б) персики, черешня, хурма, дыня, чечевица</p> <p>в) фасоль, лук зеленый, сыр, морковь, петрушка</p> <p>г) топинамбур, масло растительное, рис</p>	2	
ИТОГО:		30	